

Nombre:

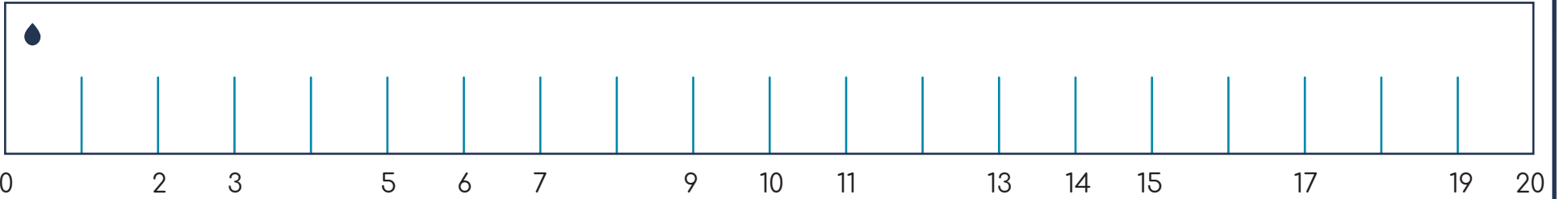
Curso:

Fecha:

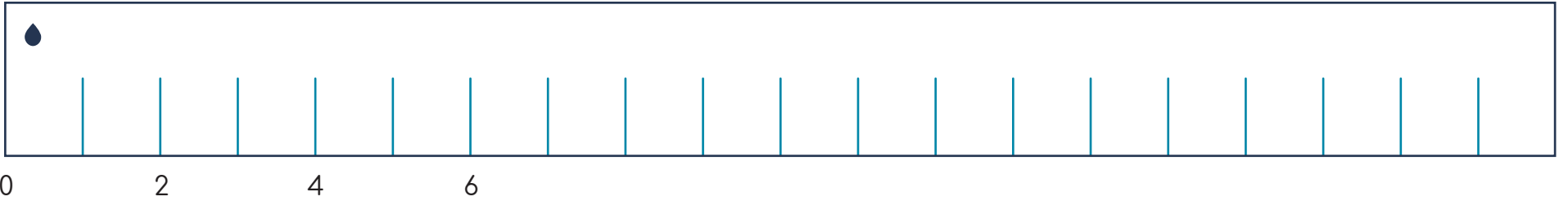
La recta numérica

Completa la recta numérica según la indicación

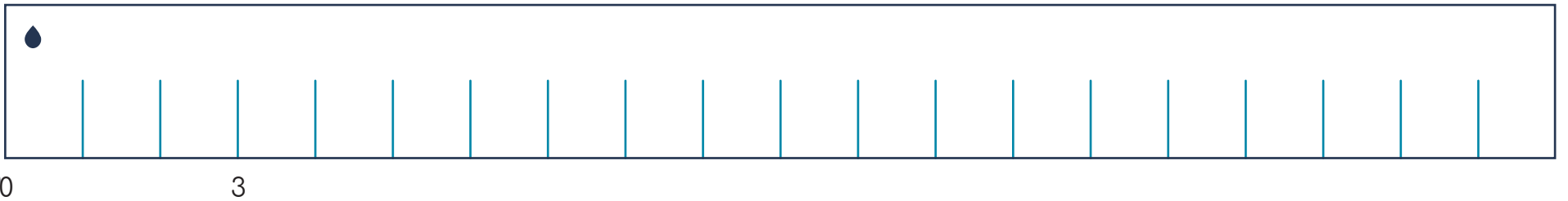
- Escribe los números faltantes en la recta numérica



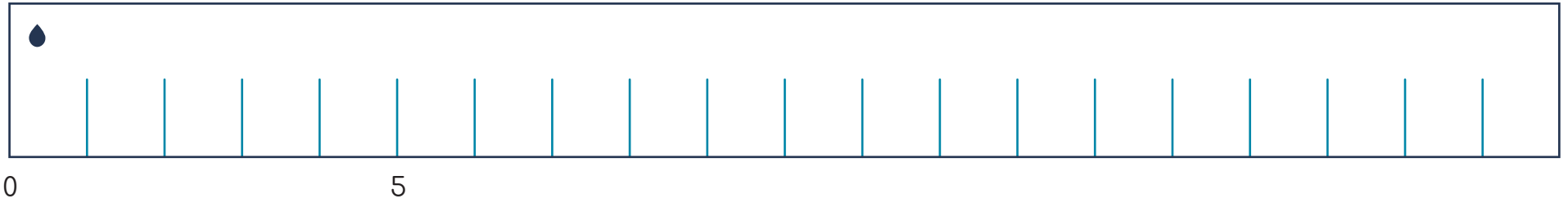
- Escribe los números en la recta numérica saltando de 2 en 2 (0, 2, 4, 6 ...)



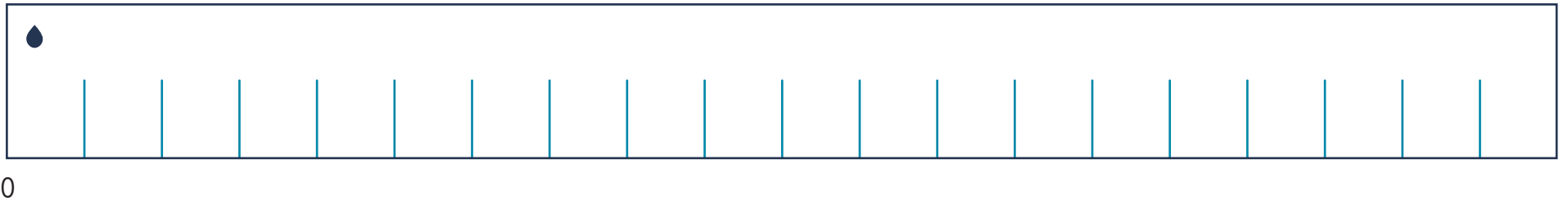
- Escribe los números en la recta numérica de 3 en 3 (0, 3, 6, ...)



• Escribe los números en la recta numérica de 5 en 5 (0, 5, 10 ...)



• Escribe los números en la recta numérica de 10 en 10



• Practica la escritura de los números en las rectas numéricas

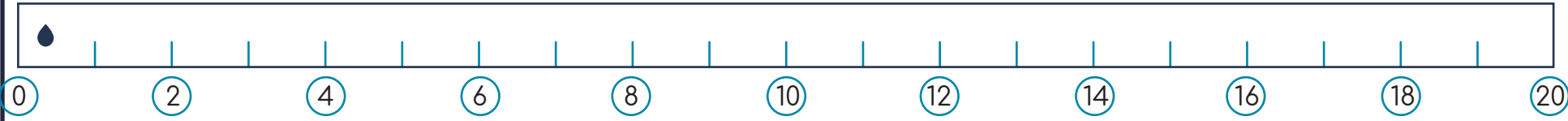


• **Hoja de respuestas** •

• Escribe los números faltantes en la recta numérica



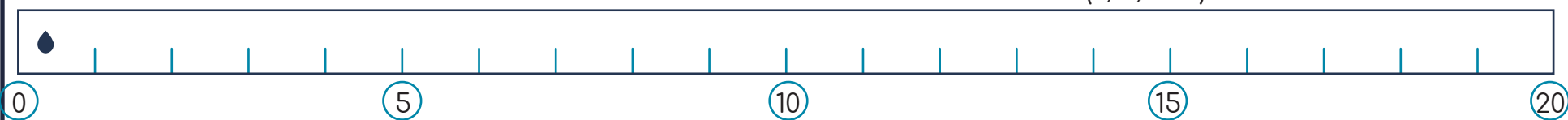
• Escribe los números en la recta numérica saltando de 2 en 2 (0, 2, 4, 6 ...)



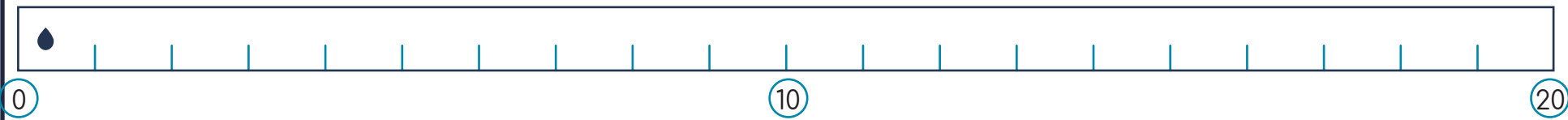
• Escribe los números en la recta numérica de 3 en 3 (0, 3, 6, ...)



• Escribe los números en la recta numérica de 5 en 5 (0, 5, 10 ...)



• Escribe los números en la recta numérica de 10 en 10



• Practica la escritura de los números en las rectas numéricas

