












Nombre:

Curso:

Fecha:

Contando pelotas

Observa y responde:



Susana



Pedro



Juan



Ana

1. ¿Quién tiene más pelotas?

2. ¿Quién tiene menos pelotas?

3. ¿Quiénes tienen el mismo número de pelotas?

4. ¿Cuántas pelotas tiene de más Ana que Pedro?

5. ¿Cuántas pelotas le faltan a Susana para tener la misma cantidad que Juan?

6. Ordena los niños teniendo en cuenta el número (menor a mayor) de pelotas:



1. ¿Quién tiene más pelotas?

Ana

2. ¿Quién tiene menos pelotas?

Susan

3. ¿Quiénes tienen el mismo número de pelotas?

Ninguno

4. ¿Cuántas pelotas tiene de más Ana que Pedro?

2 más

5. ¿Cuántas pelotas le faltan a Susan para tener la misma cantidad que Juan?

1 más

6. Ordena los niños teniendo en cuenta el número (menor a mayor) de pelotas:

Susana Juan Pedro Ana

